

Документ подписан простой электронной подписью

Информация о владельце:

ФИО: Комарова Светлана Юриевна

Должность: Проректор по образовательной деятельности

Дата подписания: 17.07.2024 10:02:49

Уникальный программный ключ:

43ba42f5deae4116bbfcb9ac98a7108031017e01c4d06ee449f2098d7a


Федеральное государственное бюджетное образовательное  
учреждение высшего образования  
«Омский государственный аграрный университет  
имени П.А. Столыпина»

Университетский колледж агробизнеса

ООП по специальности 36.02.01 Ветеринария

**СОГЛАСОВАНО**


Руководитель ООП

 Е.И. Терещенко

«26» июня 2024 г.

**УТВЕРЖДАЮ**

Директор

 А.П. Шевченко

«26» июня 2024 г.

**РАБОЧАЯ ПРОГРАММА**

дисциплины

**ЕН.01 Математические методы решения прикладных задач**

Выпускающее отделение	Отделение биотехнологий и права	
Разработчики РП (внутренние и внешние):		И.О. Зверева
Внутренние эксперты:		
Заведующая методическим отделом УМУ		Г.А. Горелкина
Директор НСХБ		И.М. Демчукова

Омск 2024

## СОДЕРЖАНИЕ ПРОГРАММЫ

1. ОБЩАЯ ХАРАКТЕРИСТИКА РАБОЧЕЙ ПРОГРАММЫ ДИСЦИПЛИНЫ .....	<b>Ошибка!</b>
<b>Закладка не определена.</b>	
1.1. Цель и место дисциплины в структуре основной образовательной программы .....	3
1.2. Планируемые результаты освоения дисциплины .....	3
2. СТРУКТУРА И СОДЕРЖАНИЕ ДИСЦИПЛИНЫ .....	<b>Ошибка! Закладка не определена.</b>
2.1. Трудоемкость освоения дисциплины .....	4
2.2. Содержание дисциплины .....	<b>Ошибка! Закладка не определена.</b>
2.3. Курсовой проект (работа) .....	10
3. УСЛОВИЯ РЕАЛИЗАЦИИ ДИСЦИПЛИНЫ .....	<b>Ошибка! Закладка не определена.</b>
3.1. Материально-техническое обеспечение .....	11
3.2. Учебно-методическое обеспечение .....	11
4. КОНТРОЛЬ И ОЦЕНКА РЕЗУЛЬТАТОВ ОСВОЕНИЯ ДИСЦИПЛИНЫ .....	<b>Ошибка!</b>
<b>Закладка не определена.</b>	
Приложение	

# 1. ОБЩАЯ ХАРАКТЕРИСТИКА РАБОЧЕЙ ПРОГРАММЫ ДИСЦИПЛИНЫ

## ЕН.01 Математические методы решения прикладных задач

### 1.1. Цель и место дисциплины в структуре основной образовательной программы

Цель дисциплины **ЕН.01 Математические методы решения прикладных задач** формирование у студентов теоретических знаний и практических навыков в области дифференциального исчисления, теории вероятностей и математической статистики, необходимых в будущей профессиональной деятельности.

Дисциплина включена в обязательную часть математического и общего естественнонаучного учебного цикла ООП в соответствии с ФГОС СПО по специальности 36.02.01 Ветеринария.

### 1.2. Планируемые результаты освоения дисциплины

Результаты освоения дисциплины соотносятся с планируемыми результатами освоения образовательной программы, представленными в матрице компетенций выпускника (п. 4.3 ООП-П).

В результате освоения дисциплины обучающийся должен:

Код ОК, ПК	Умения	Знания
ОК 01	Владеть приемами геометрических измерений, читать информацию, представленную в виде таблиц, графиков, схем	Основные понятия математического анализа, линейной алгебры, теорию комплексных чисел, теории вероятностей и математической статистики
	Определять этапы решения задачи	Роль и место математики в современном мире при освоении профессиональных дисциплин
ОК 02	-	Основы интегрального и дифференциального исчисления
ПК 1.1	Решать прикладные задачи с применением сложных расчетов; оценивать качество выполняемых работ	Основные математические методы решения прикладных задач методы оценивания качества выполняемых работ

### Обоснование часов вариативной части ООП-П

№№ п/п	Дополнительные знания, умения, навыки(если указаны ПК)	№, наименование темы	Объем часов	Обоснование включения в рабочую программу
-	-	-	-	-

## 2. СТРУКТУРА И СОДЕРЖАНИЕ ДИСЦИПЛИНЫ

### 2.1. Трудоемкость освоения дисциплины (очная форма обучения)

Наименование составных частей дисциплины	Объем в часах	В том числе в форме практической подготовки
Учебные занятия	72	-
Курсовая работа (проект)	-	-
Самостоятельная работа	-	-
Промежуточная аттестация – дифференцированный зачет	-	-
Всего	72	-

### 2.1. Трудоемкость освоения дисциплины (очно-заочная форма обучения)

Наименование составных частей дисциплины	Объем в часах	В том числе в форме практической подготовки
Учебные занятия	32	-
Курсовая работа (проект)	-	-
Самостоятельная работа	40	-
Промежуточная аттестация – дифференцированный зачет	-	-
Всего	72	-

## 2.2. Содержание дисциплины

### 2.2.1 Содержание дисциплины по очной форме обучения:

Наименование разделов и тем	Содержание учебного материала и формы организации деятельности обучающихся	Объем, акад. ч / в том числе в форме практической подготовки, акад ч	Коды компетенций и личностных результатов, формированию которых способствует элемент программы
1	2	3	4
<b>Раздел 1. Основы математического анализа</b>		<b>28/12</b>	
<b>Тема 1.1</b> <b>Функция. Предел функции</b>	<b>Содержание</b> 1. Понятие функции, ее свойства, способы задания. Определение предела функции; теоремы о пределах 2. Замечательные пределы. Непрерывность функции. Исследование функции на непрерывность. 3. <b>Практическое занятие № 1:</b> Вычисление пределов функций с помощью раскрытия неопределенностей.	<b>6</b>  2  2	OK 01 OK 02
<b>Тема 1.2</b> <b>Дифференциальное исчисление</b>	<b>Содержание</b> 4. Определение производной, её геометрический и механический смысл, правила нахождения производной. 5. Производные основных и сложных функций. Раскрытие неопределенностей с помощью правила Лопиталя. 6. Монотонность функции. Нахождение экстремумов по производной первого порядка. Наибольшее, наименьшее значение функции на промежутке. 7. <b>Практическое занятие № 2:</b> Вычисление производных функций 8. <b>Практическое занятие № 3:</b> Исследование функций 9. <b>Практическое занятие № 4:</b> Применение производной к решению практических задач.	<b>12</b>  2  2  2  2	OK 01 OK 02
<b>Тема 1.3</b> <b>Интегральное исчисление функции одной переменной</b>	<b>Содержание</b> 10. Неопределённый интеграл, его свойства. Вычисление неопределённого интеграла методами непосредственного интегрирования и подстановки. 11. Вычисление неопределённых интегралов методом интегрирования по частям 12. Определённый интеграл. Приложения	<b>10</b>  2  2	OK 01 OK 02

	определённого интеграла в геометрии (площадь криволинейной трапеции, объём тел вращения)		
	<b>13. Практическое занятие № 5:</b> Нахождение неопределённых интегралов различными и методами.	2	
	<b>14. Практическое занятие № 6:</b> Применение определённого интеграла в практических задачах	2	
<b>Раздел 2. Основы линейной алгебры</b>		<b>28/14</b>	
<b>Тема 2.1. Матрицы и действия над ними</b>	<b>Содержание</b>	<b>4</b>	OK 01 OK 02
	<b>15.</b> Матрица, виды матриц, их свойства. Основные операции над матрицами (сложение, вычитание, умножение, транспонирование)	2	
	<b>16. Практическое занятие № 7:</b> Действия над матрицами	2	
<b>Тема 2.2. Определители 2-го и 3-го порядков, их свойства</b>	<b>Содержание</b>	<b>4</b>	OK 01
	<b>17.</b> Определители n-го порядка, их свойства и вычисление. Миноры и алгебраические дополнения. Разложение определителей в сумму алгебраических дополнений.	2	
	<b>18. Практическое занятие № 8:</b> Вычисление определителей 2, 3 и 4 порядков	2	
<b>Тема 2.3. Обратные матрицы</b>	<b>Содержание</b>	<b>4</b>	
	<b>19.</b> Обратная матрица. Обращение матриц второго и третьего порядков.	2	
	<b>20. Практическое занятие № 9:</b> Нахождение обратных матриц.	2	
<b>Тема 2.4 Решение систем линейных алгебраических уравнений (СЛАУ)</b>	<b>Содержание</b>	<b>16</b>	OK 01
	<b>21.</b> Системы линейных уравнений	2	
	<b>22.</b> Решение систем линейных уравнений методом Крамера.	2	
	<b>23.</b> Решение систем линейных уравнений методом Гаусса	2	
	<b>24.</b> Решение систем линейных уравнений методом обратной матрицы	2	
	<b>25. Практическое занятие № 10:</b> Решение систем линейных уравнений методом Крамера.	2	
	<b>26. Практическое занятие № 11:</b> Решение систем линейных уравнений методом Гаусса	2	
	<b>27. Практическое занятие № 12:</b> Решение систем уравнений методом обратной матрицы	2	
	<b>28. Практическое занятие № 13:</b> Решение систем уравнений методами Крамера и Гаусса, методом обратной матрицы	2	
<b>Раздел 3. Элементы теории комплексных чисел</b>		<b>8/2</b>	
<b>Тема 3.1 Формы комплексного числа. Решение уравнений.</b>	<b>Содержание</b>	<b>8</b>	OK 01
	<b>29.</b> Понятие комплексного числа, его геометрическая интерпретация. Формы комплексного числа.	2	

	<b>30.</b> Арифметические операции над комплексными числами, заданными в различных формах.	2	
	<b>31.</b> Решение квадратных уравнений с отрицательным дискриминантом.	2	
	<b>32. Практическое занятие № 14:</b> Действия с комплексными числами, записанными в различных формах. Решение уравнений	2	
<b>Раздел 4. Основы теории вероятностей и математической статистики</b>		<b>8/4</b>	
<b>Тема 4.1.</b> <b>События, комбинаторика, вероятность</b>	<b>Содержание</b>	<b>4</b>	ПК 1.1
	<b>33.</b> Понятия события и вероятности события. Достоверные и невозможные события. Классическое определение вероятности. Теоремы сложения и умножения вероятностей.	2	
	<b>34. Практическое занятие № 15:</b> Вычисление вероятностей случайных событий	2	
<b>Тема 4.2.</b> <b>Основные понятия математической статистики. Выборочные ряды распределения.</b>	<b>Содержание</b>	<b>4</b>	
	<b>35.</b> Предмет математической статистики, ее основные понятия. Числовые характеристики выборки. Геометрическая интерпретация статистического распределения выборки (полигон и гистограмма)	2	
	<b>36. Практическое занятие № 16:</b> Анализ, обработка и графическое представление данных	2	
<b>Всего:</b>		<b>72</b>	

### 2.2.2 Содержание дисциплины по очно- заочной форме обучения:

Наименование разделов и тем	Содержание учебного материала и формы организации деятельности обучающихся	Объем, акад. ч / в том числе в форме практической подготовки, акад ч	Коды компетенций и личностных результатов, формированию которых способствует элемент программы
<i>1</i>	<i>2</i>	<i>3</i>	<i>4</i>
<b>Раздел 1. Основы математического анализа</b>		<b>28/8</b>	
<b>Тема 1.1</b> <b>Функция. Предел функции</b>	<b>Содержание</b>	<b>6</b>	ОК 01 ОК 02
	<b>Самостоятельная работа:</b> Понятие функции, ее свойства, способы задания. Определение предела функции; теоремы о пределах	2	
	<b>Самостоятельная работа:</b> Замечательные пределы. Непрерывность функции. Исследование функции на непрерывность.	2	
	<b>1. Практическое занятие № 1:</b> Вычисление пределов функций с помощью раскрытия	2	

	неопределенностей.		
<b>Тема 1.2</b> <b>Дифференциальное исчисление</b>	<b>Содержание</b>	<b>12</b>	
	<b>2.</b> Определение производной, её геометрический и механический смысл, правила нахождения производной.	2	OK 01 OK 02
	<b>Самостоятельная работа:</b> Производные основных и сложных функций. Раскрытие неопределенностей с помощью правила Лопиталя.	2	
	<b>3.</b> Монотонность функции. Нахождение экстремумов по производной первого порядка. Наибольшее, наименьшее значение функции на промежутке.	2	
	<b>4. Практическое занятие № 2:</b> Вычисление производных функций	2	
	<b>Самостоятельная работа:</b> Исследование функций	2	
	<b>5. Практическое занятие № 3:</b> Применение производной к решению практических задач.	2	
<b>Тема 1.3</b> <b>Интегральное исчисление функции одной переменной</b>	<b>Содержание</b>	<b>10</b>	OK 01 OK 02
	<b>Самостоятельная работа:</b> Неопределённый интеграл, его свойства. Вычисление неопределённого интеграла методами непосредственного интегрирования и подстановки.	2	
	<b>6.</b> Вычисление неопределённых интегралов методом интегрирования по частям	2	
	<b>Самостоятельная работа:</b> Определённый интеграл. Приложения определённого интеграла в геометрии (площадь криволинейной трапеции, объём тел вращения)	2	
	<b>Самостоятельная работа:</b> Нахождение неопределённых интегралов различными и методами.	2	
	<b>7. Практическое занятие № 4:</b> Применение определённого интеграла в практических задачах	2	
<b>Раздел 2. Основы линейной алгебры</b>		<b>28/6</b>	
<b>Тема 2.1.</b> <b>Матрицы и действия над ними</b>	<b>Содержание</b>	<b>4</b>	OK 01 OK 02
	<b>8.</b> Матрица, виды матриц, их свойства. Основные операции над матрицами (сложение, вычитание, умножение, транспонирование)	2	
	<b>Самостоятельная работа:</b> Действия над матрицами	2	
<b>Тема 2.2.</b> <b>Определители 2-го и 3-го</b>	<b>Содержание</b>	<b>4</b>	OK 01
	<b>9.</b> Определители n-го порядка, их свойства и вычисление. Миноры и алгебраические дополнения. Разложение определителей в	2	



порядков, их свойства		сумму алгебраических дополнений.		
		<b>Самостоятельная работа:</b> Вычисление определителей 2, 3 и 4 порядков	2	
Тема 2.3. Обратные матрицы		<b>Содержание</b>	<b>4</b>	
		<b>Самостоятельная работа:</b> Обратная матрица. Обращение матриц второго и третьего порядков.	2	
		<b>10. Практическое занятие № 5:</b> Нахождение обратных матриц.	2	
Тема 2.4 Решение систем линейных алгебраических уравнений (СЛАУ)		<b>Содержание</b>	<b>16</b>	ОК 01
		<b>Самостоятельная работа:</b> Системы линейных уравнений	2	
		<b>11.</b> Решение систем линейных уравнений методом Крамера.	2	
		<b>12.</b> Решение систем линейных уравнений методом Гаусса	2	
		<b>13.</b> Решение систем линейных уравнений методом обратной матрицы	2	
		<b>Самостоятельная работа:</b> Решение систем линейных уравнений методом Крамера.	2	
		<b>Самостоятельная работа:</b> Решение систем линейных уравнений методом Гаусса	2	
		<b>14. Практическое занятие № 6:</b> Решение систем уравнений методом обратной матрицы	2	
		<b>15. Практическое занятие № 7:</b> Решение систем уравнений методами Крамера и Гаусса, методом обратной матрицы	2	
<b>Раздел 3. Элементы теории комплексных чисел</b>			<b>8</b>	
Тема 3.1 Формы комплексного числа. Решение уравнений.		<b>Содержание</b>	<b>8</b>	ОК 01
		<b>Самостоятельная работа:</b> Понятие комплексного числа, его геометрическая интерпретация. Формы комплексного числа.	2	
		<b>Самостоятельная работа:</b> Арифметические операции над комплексными числами, заданными в различных формах.	2	
		<b>Самостоятельная работа:</b> Решение квадратных уравнений с отрицательным дискриминантом.	2	
		<b>Самостоятельная работа:</b> Действия с комплексными числами, записанными в различных формах. Решение уравнений	2	
<b>Раздел 4. Основы теории вероятностей и математической статистики</b>			<b>8/2</b>	
Тема 4.1. События, комбинаторика, вероятность		<b>Содержание</b>	<b>4</b>	ПК 1.1
		<b>Самостоятельная работа:</b> Понятия события и вероятности события. Достоверные и невозможные события. Классическое определение вероятности. Теоремы сложения и умножения вероятностей.	2	
		<b>16. Практическое занятие № 8:</b> Вычисление вероятностей случайных событий	2	
Тема 4.2.		<b>Содержание</b>	<b>4</b>	
		<b>Самостоятельная работа:</b> Предмет	2	

<b>Основные понятия математической статистики. Выборочные ряды распределения.</b>	математической статистики, ее основные понятия. Числовые характеристики выборки. Геометрическая интерпретация статистического распределения выборки (полигон и гистограмма)		
	<b>Самостоятельная работа:</b> Анализ, обработка и графическое предоставление данных	2	
<b>Всего:</b>		<b>72</b>	

### 2.3. Курсовой проект (работа)

Отсутствует.

### 3. УСЛОВИЯ РЕАЛИЗАЦИИ ДИСЦИПЛИНЫ

#### 3.1. Материально-техническое обеспечение

Для реализации программы дисциплины должны быть предусмотрены следующие специальные помещения:

кабинет «Социально-экономических дисциплин» оснащенный в соответствии приложением 3 образовательной программы по специальности 36.02.01 Ветеринария.

#### 3.2. Учебно-методическое обеспечение

##### 3.2.1. Основные печатные и/или электронные издания

1. Бардушкин, В. В. Математика. Элементы высшей математики : учебник : в 2 томах. Том 1 / В. В. Бардушкин, А. А. Прокофьев. — Москва : КУРС : ИНФРА-М, 2021. — 304 с. — (Среднее профессиональное образование). - ISBN 978-5-906923-05-9. - Текст : электронный. - URL: <https://znanium.com/catalog/product/1235904>. – Режим доступа: по подписке.

2. Бардушкин, В. В. Математика. Элементы высшей математики : учебник : в 2 томах. Том 2 / В.В. Бардушкин, А.А. Прокофьев. — Москва : КУРС : ИНФРА-М, 2022. — 368 с. — (Среднее профессиональное образование). - ISBN 978-5-906923-34-9. - Текст : электронный. - URL: <https://znanium.com/catalog/product/1817031>. – Режим доступа: по подписке.

3. Дадаян, А. А. Математика : учебник / А.А. Дадаян. — 3-е изд., испр. и доп. — Москва : ИНФРА-М, 2023. — 544 с. — (Среднее профессиональное образование). - ISBN 978-5-16-012592-3. - Текст : электронный. - URL: <https://znanium.com/catalog/product/1891827>. – Режим доступа: по подписке.

4. Шипова, Л. И. Математика : учебное пособие / Л.И. Шипова, А.Е. Шипов. — Москва : ИНФРА-М, 2020. — 238 с. — (Среднее профессиональное образование). - ISBN 978-5-16-014561-7. - Текст : электронный. - URL: <https://znanium.com/catalog/product/1127760>. – Режим доступа: по подписке.

##### 3.2.2. Дополнительные источники

1. Юхно, Н. С. Математика : учебник / Н. С. Юхно. — Москва : ИНФРА-М, 2024. — 204 с. — (Среднее профессиональное образование). — DOI 10.12737/1002604. - ISBN 978-5-16-014744-4. - Текст : электронный. - URL: <https://znanium.ru/catalog/product/2136718> . – Режим доступа: по подписке.

2. Жукова, Г. С. Математика : учебное пособие / Г.С. Жукова, Л.Р. Борисова ; под ред. Г.С. Жуковой. — Москва : ИНФРА-М, 2024. — 543 с. — (Высшее образование). — DOI 10.12737/2082652. - ISBN 978-5-16-019002-0. - Текст : электронный. - URL: <https://znanium.ru/catalog/product/2150464> . – Режим доступа: по подписке.

3. Каазик, Ю. Я. Математический словарь / Каазик Ю. Я. - Москва : ФИЗМАТЛИТ, 2007. - 336 с. - ISBN 978-5-9221-0847-8. - Текст : электронный // ЭБС "Консультант студента" : [сайт]. - URL : <https://www.studentlibrary.ru/book/ISBN9785922108478.html>. - Режим доступа : по подписке.

4. Математика в школе : научно-теоретический и методический журнал. - Москва : Школьная пресса, 1924. - Выходит 10 раз в год. – ISSN 0130-9358. – Текст : непосредственный.

5. Современные профессиональные базы данных (ИОС ОмГАУ-Moodle) [do.omgau.ru](http://do.omgau.ru).

6. Электронно-библиотечная система «Znanium.com» <http://znanium.com/>

7. Электронно-библиотечная система издательства «Лань» <https://e.lanbook.com/>

8. Электронно-библиотечная система «Консультант студента» <http://www.studentlibrary.ru>

9. Справочная правовая система Консультант Плюс <http://www.consultant.ru/>

10. Универсальная База Данных ИВИС: <https://eivis.ru/>

#### 4. КОНТРОЛЬ И ОЦЕНКА РЕЗУЛЬТАТОВ ОСВОЕНИЯ ДИСЦИПЛИНЫ

<i>Результаты обучения</i>	<i>Критерии оценки</i>	<i>Методы оценки</i>
<b>Знания:</b>		
Основные понятия математического анализа, линейной алгебры, теорию комплексных чисел, теории вероятностей и математической статистики.	Обучающийся знает основные понятия математического анализа, линейной алгебры, теорию комплексных чисел, теории вероятностей и математической статистики.	-устные и письменные опросы на теоретических и практических занятиях. - тестовые опросы. - письменные работы по завершению разделов. - взаимный контроль при работе в парах и малыми группами.
Роль и место математики в современном мире при освоении профессиональных дисциплин.	Обучающийся знает роль и место математики в современном мире при освоении профессиональных дисциплин.	- самоконтроль при рефлексии на теоретических занятиях.
Основы интегрального и дифференциального исчисления.	Обучающийся знает основы интегрального и дифференциального исчисления.	- наблюдение, интерпретация результатов и экспертная оценка деятельности обучающихся на практических и теоретических занятиях.
Основные математические методы решения прикладных задач методы оценивания качества выполняемых работ.	Обучающийся знает основные математические методы решения прикладных задач методы оценивания качества выполняемых работ.	- итоговый контроль – дифференцированный зачет
<b>Умения</b>		
Владеть приемами геометрических измерений, читать информацию, представленную в виде таблиц, графиков, схем.	Обучающийся владеет приемами геометрических измерений, читать информацию, представленную в виде таблиц, графиков, схем.	- проверка результатов и хода выполнения практических работ - решение поисковых задач. - наблюдение,
Определять этапы решения задачи	Обучающийся умеет определять этапы решения задачи	интерпретация результатов и экспертная оценка деятельности обучающихся на практических и теоретических занятиях.
Решать прикладные задачи с применением сложных расчетов. Оценивать качество выполняемых работ.	Обучающийся умеет решать прикладные задачи с применением сложных расчетов. Оценивать качество выполняемых работ.	

**Федеральное государственное бюджетное образовательное  
учреждение высшего образования  
«Омский государственный аграрный университет  
имени П.А. Столыпина»**

**Университетский колледж агробизнеса**

**36.02.01 Ветеринария**

**ФОНД ОЦЕНОЧНЫХ СРЕДСТВ**

**по дисциплине**

**ЕН.01 Математические методы решения прикладных задач**

Обеспечивающее преподавание дисциплины  
подразделение

Отделение биотехнологий и права

Разработчик:

Преподаватель

И.О. Зверева

**Омск  
2024**

## СОДЕРЖАНИЕ

	3
1. ОБЩИЕ ПОЛОЖЕНИЯ	
2. ОЖИДАЕМЫЕ РЕЗУЛЬТАТЫ ИЗУЧЕНИЯ	4
3. РАСПРЕДЕЛЕНИЕ ОЦЕНИВАНИЯ РЕЗУЛЬТАТОВ ОБУЧЕНИЯ И ТИПОВ ОЦЕНОЧНЫХ МАТЕРИАЛОВ ПО ЭЛЕМЕНТАМ ЗНАНИЙ И УМЕНИЙ	5
4. МЕТОДИЧЕСКИЕ МАТЕРИАЛЫ ДЛЯ ОЦЕНКИ ЗНАНИЙ, УМЕНИЙ	6
5. ПОКАЗАТЕЛИ ОЦЕНКИ РЕЗУЛЬТАТОВ ОСВОЕНИЯ ДИСЦИПЛИНЫ	19

## I. ОБЩИЕ ПОЛОЖЕНИЯ

1. Фонд оценочных средств (далее – ФОС) предназначен для контроля и оценки образовательных достижений обучающихся, освоивших программу дисциплины ЕН.01 Математические методы решения прикладных задач.
2. ФОС включает оценочные материалы для проведения текущего контроля и промежуточной аттестации в форме **дифференцированного зачета**.
3. ФОС позволяет оценивать знания, умения, направленные на формирование компетенций.
4. ФОС разработан на основании положений основной образовательной программы по специальности 36.02.01 Ветеринария дисциплины ЕН.01 Математические методы решения прикладных задач.
5. ФОС является обязательным обособленным приложением к рабочей программе.

## II. ОЖИДАЕМЫЕ РЕЗУЛЬТАТЫ ИЗУЧЕНИЯ

Код ОК, ПК	Код умений	Умения	Код знаний	Знания
ОК 01	Уо 01.10	Владеть приемами геометрических измерений, читать информацию, представленную в виде таблиц, графиков, схем	Зо 01.07	Основные понятия математического анализа, линейной алгебры, теорию комплексных чисел, теории вероятностей и математической статистики
	Уо 01.03	Определять этапы решения задачи	Зо 01.08	Роль и место математики в современном мире при освоении профессиональных дисциплин
ОК 02	-	-	Зо 02.05	Основы интегрального и дифференциального исчисления
ПК 1.1	У 1.1.04	Решать прикладные задачи с применением сложных расчетов; оценивать качество выполняемых работ	З 1.1.05	Основные математические методы решения прикладных задач методы оценивания качества выполняемых работ



**III. РАСПРЕДЕЛЕНИЕ ОЦЕНИВАНИЯ РЕЗУЛЬТАТОВ ОБУЧЕНИЯ И ТИПОВ  
ОЦЕНОЧНЫХ МАТЕРИАЛОВ ПО ЭЛЕМЕНТАМ ЗАНЙ И УМЕНИЙ**

Содержание курса	Форма контроля	Знания	Умения
<b>Текущий контроль</b>			
<b>Раздел 1. Основы математического анализа</b>			
Тема 1.1 Функция. Предел функции	Устный ответ; решение ситуационных задач	Зо 01.08 Зо 02.05	Уо 01.10
Тема 1.2 Дифференциальное исчисление	Устный ответ; решение практических задач	Зо 02.05	Уо 01.10
Тема 1.3 Интегральное исчисление функции одной переменной	Контроль при работе в парах	Зо 01.07 Зо 02.05	Уо 01.03
<b>Раздел 2. Основы линейной алгебры</b>			
Тема 2.1. Матрицы и действия над ними	Математический диктант; решение практических заданий	Зо 01.07	Уо 01.03
Тема 2.2. Определители 2-го и 3-го порядков, их свойства	Выполнение тестовых заданий	Зо 01.07	Уо 01.03
Тема 2.3. Обратные матрицы	Решение практических задач	Зо 01.07	Уо 01.03
Тема 2.4 Решение систем линейных алгебраических уравнений (СЛАУ)	Устный ответ; решение ситуационных задач	Зо 01.07	Уо 01.03
<b>Раздел 3. Элементы теории комплексных чисел</b>			
Тема 3.1 Формы комплексного числа. Решение уравнений.	Устный ответ; решение задач	Зо 01.07	Уо 01.03
<b>Раздел 4. Основы теории вероятностей и математической статистики</b>			
Тема 4.1. События, комбинаторика, вероятность	Решение практических задач	З 1.1.05	У 1.1.04
Тема 4.2. Основные понятия математической статистики. Выборочные ряды распределения.	Составление кроссвордов; выполнение тестовых заданий	З 1.1.05	У 1.1.04
<b>Промежуточный контроль</b>			
Дифференцированный зачет	Устный ответ на вопросы; решение практических задач	Зо 01.07 Зо 01.08 Зо 02.05 З 1.1.05	Уо 01.03 Уо 01.10 У 1.1.04

#### IV. МЕТОДИЧЕСКИЕ МАТЕРИАЛЫ ДЛЯ ОЦЕНКИ ЗНАНИЙ, УМЕНИЙ

##### 4.1. Оценочные средства, применяемые для текущего контроля.

###### Примеры практических (ситуационных) задач

1. Вычислить площадь фигуры, ограниченной линиями  $y=2x^2$ ;  $x=1$  и  $x=2$
2. Скорость движения точки изменяется по закону  $v = 3t^2 + 2t + 1$  м/с. Найдите путь, пройденный точкой за 10 с от начала движения
3. В коробке 5 одинаковых деталей, 3-и из них окрашены, на удачу извлекли 2-а изделия. Найти вероятность того, что среди извлеченных изделий окажется одно окрашенное изделие.
4. В лотерее 1000 билетов. Разыгрывается один выигрыш в 200 рублей и десять выигрышей по 100 рублей. Пусть  $X$  – величина возможного выигрыша для человека, имеющего один билет. Составить закон распределения этой случайной величины  $X$ .
5. Случайная величина  $X$  задана законом распределения:

4	6	7
0,4	0,5	0,1

Найти математическое ожидание, дисперсию, среднее квадратичное отклонение этой случайной величины  $X$ .

###### Примеры (образцы решений)

ПРИМЕР 1. Найти производную второго порядка функции  $y = x^2 \ln x$ .

*Решение.*  $y'' = (y')'$ , поэтому найдём производную первого порядка, а затем второго.

$$y' = (x^2 \ln x)' = (x^2)' \ln x + x^2 (\ln x)' = 2x \cdot \ln x + x^2 \frac{1}{x} = 2x \ln x + x = x(2 \ln x + 1).$$

$$y'' = (x(2 \ln x + 1))' = x'(2 \ln x + 1) + x(2 \ln x + 1)' = 2 \ln x + 1 + x \frac{2}{x} = 2 \ln x + 3.$$

ПРИМЕР 2. Найти неопределенный интеграл:

$$\int \left( 5 \cos x + 2 - 3x^2 + \frac{1}{x} - \frac{4}{x^2 + 1} \right) dx.$$

Решение:  $\int \left( 5 \cos x + 2 - 3x^2 + \frac{1}{x} - \frac{4}{x^2 + 1} \right) dx =$

$$= \int 5 \cos x dx + \int 2 dx - \int 3x^2 dx + \int \frac{1}{x} dx - \int \frac{4}{x^2 + 1} dx =$$

$$= 5 \int \cos x dx + 2 \int dx - 3 \int x^2 dx + \int \frac{dx}{x} - 4 \int \frac{dx}{x^2 + 1} =$$

$$= 5 \sin x + 2x - 3 \frac{x^3}{3} + \ln|x| - 4 \cdot \operatorname{arctg} x + C =$$

$$= 5 \sin x + 2x - x^3 + \ln|x| - 4 \cdot \operatorname{arctg} x + C.$$

ПРИМЕР 3: Возвести в степень комплексные числа  $i^{10}$ ,  $i^{33}$ ,  $(-i)^{21}$

Решение: Если мнимая единица возводится в четную степень, то техника решения такова:  $i^{10} = (i^2)^5 = (-1)^5 = -1$

Если мнимая единица возводится в нечетную степень, то «отщипываем» одно «и», получая четную степень:  $i^{33} = i \cdot i^{32} = i \cdot (i^2)^{16} = i \cdot (-1)^{16} = i \cdot 1 = i$

Если есть минус (или любой действительный коэффициент), то его необходимо предварительно отделить:  $(-i)^{21} = (-1)^{21} \cdot i^{21} = -i \cdot i^{20} = -i \cdot (i^2)^{10} = -i \cdot (-1)^{10} = -i$

ПРИМЕР 4. 
$$A = \begin{pmatrix} 1 & 2 & 0 \\ 3 & 2 & 1 \\ 0 & 1 & 2 \end{pmatrix}$$
. Найдем обратную матрицу.

Решение:

$$|A| = \begin{vmatrix} 2 & 1 \\ 1 & 2 \end{vmatrix} - 2 \begin{vmatrix} 3 & 1 \\ 0 & 2 \end{vmatrix} = 3 - 12 = -9.$$

$$A_{11} = 3, \quad A_{12} = -6, \quad A_{13} = 3, \quad A_{21} = -4, \quad A_{22} = 2, \quad A_{23} = -1, \quad A_{31} = 2, \quad A_{32} = -1, \quad A_{33} = -4.$$

$$A' = \begin{pmatrix} 3 & -6 & 3 \\ -4 & 2 & -1 \\ 2 & -1 & -4 \end{pmatrix}, \quad (A')^T = \begin{pmatrix} 3 & -4 & 2 \\ -6 & 2 & -1 \\ 3 & -1 & -4 \end{pmatrix}$$

$$A^{-1} = -\frac{1}{9}(A')^T = \begin{pmatrix} -\frac{1}{3} & \frac{4}{9} & -\frac{2}{9} \\ \frac{2}{3} & -\frac{2}{9} & \frac{1}{9} \\ -\frac{1}{3} & \frac{1}{9} & -\frac{4}{9} \end{pmatrix}$$

### Примеры тестовых заданий

Компетенции	Оценочные средства
ОК 1 Выбирать способы решения задач профессиональной деятельности применительно к различным контекстам	<p>1. Операцию нахождения производной называют дифференцированием интегрированием консолидацией бифуркацией</p> <p>2. Эта формула выражает <math>\lim_{x \rightarrow 0} \left( \frac{\sin x}{x} \right) = 1</math> первый замечательный предел первообразную угловой коэффициент касательной максимальное значение функции</p> <p>3. Площадь криволинейной трапеции, ограниченной линиями <math>y=4-x^2</math>, <math>y=0</math> определяется</p>

интегралом

$$\int_{-2}^0 (4 - x^2) dx$$

$$\int_{-2}^2 (4 - x^2) dx$$

$$\int_0^4 (4 - x^2) dx$$

$$\int_0^2 (4 - x^2) dx$$

4. Вероятность завести двигатель у трактора при первой попытке 0,35, при второй 0,4. Вероятность того, что двигатель заведён равна

0,61

0,39

0,14

0,86

5. Предел отношения приращения функции в точке  $x$  к приращению аргумента, когда последнее стремится к нулю называется

+производной функции

неопределённым интегралом

пределом функции

первообразной

6. Матрицы  $A = \begin{pmatrix} 2 & -3 & 1 \\ 0 & -5 & -7 \end{pmatrix}$ , то транспонированная матрица  $A^T$

$$A^T = \begin{pmatrix} 0 & -5 & -7 \\ 2 & -3 & 1 \end{pmatrix}$$

$$A^T = \begin{pmatrix} 1 & -3 & 2 \\ -7 & -5 & 0 \end{pmatrix}$$

$$A^T = \begin{pmatrix} 0 & 2 \\ -5 & -3 \\ -7 & 1 \end{pmatrix}$$

$$A^T = \begin{pmatrix} 2 & 0 \\ -3 & -5 \\ 1 & -7 \end{pmatrix}$$

7. Определитель матрицы  $A = \begin{pmatrix} 6 & 2 \\ -1 & 2 \end{pmatrix}$  равен

10

14

-14

6

8. Площадь заштрихованной фигуры, изображенной на рисунке 1. равна

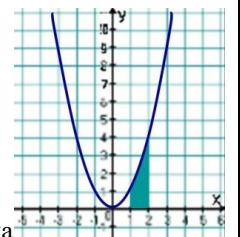


Рис. 1

$$\frac{5}{3}$$

$$3$$

$$\frac{7}{2}$$

$$\frac{7}{3}$$

9. Предел отношения приращения функции в точке  $x$  к приращению аргумента, когда последнее стремится к нулю называется  
 производной функции  
 неопределенным интегралом  
 пределом функции  
 первообразной

10. Формула производной произведения двух функций  $(u \cdot v)'$  вычисляется по формуле  
 $u' \cdot v'$   
 $u' \cdot v - u \cdot v'$   
 $+ u' \cdot v + u \cdot v'$   
 $u' \cdot v' + u \cdot v$

11. Диагональной называется матрица, у которой  
 все элементы вне главной диагонали равны нулю  
 все элементы главной диагонали равны нулю  
 все элементы на главной и побочной диагоналях равны нулю  
 все элементы первой строки равны нулю

12. Если  $\int_1^4 f(x) dx = 3$  и  $\int_1^4 g(x) dx = -2$ , то  $\int_1^4 [f(x) - g(x)] dx$  равен  
 -1  
 -5  
 5  
 1

13. Соответствие между математическими понятиями и их формулировками. УКАЖИТЕ СООТВЕТСТВИЕ ДЛЯ КАЖДОГО ЭЛЕМЕНТА ЗАДАНИЯ

Совокупность всех первообразных функции, то есть выражение $\int f(x) dx = F(x) + C$ , $x \in J$ , $\int f(x) dx = F(x) + C$ , $x \in J$ , где $C \in \mathbb{R}$ $C \in \mathbb{R}$ – произвольная постоянная.	Неопределенный интеграл
Разность значений первообразной для подынтегральной функции	Определенный интеграл
Предел отношения приращения функции $\Delta y = f(x_0 + \Delta x) - f(x_0)$ к приращению аргумента $\Delta x$ при $\Delta x \rightarrow 0$	Производная
Величина, к которой значение рассматриваемой функции стремится при стремлении её аргумента к данной точке	Предел

14. Дана матрица  $A = \begin{pmatrix} -2 & 4 & 0 \\ 1 & 3 & -5 \\ 2 & 6 & -1 \end{pmatrix}$ . УКАЖИТЕ СООТВЕТСТВИЕ ДЛЯ КАЖДОГО

ЭЛЕМЕНТА МАТРИЦЫ

$a_{12}$	4
$a_{23}$	-5
$a_{31}$	2
$a_{33}$	-1

15. Установите соответствие между производной и ее ответом. УКАЖИТЕ СООТВЕТСТВИЕ ДЛЯ КАЖДОГО ЭЛЕМЕНТА ЗАДАНИЯ

$(2x^{10} - 3x^5 + 3)'$	$20x^9 - 15x^4$
$(x^{10} - x^5 + 3)'$	$10x^9 - 5x^4$
$(2x^9 - 2x^5 + 3x)'$	$18x^8 - 10x^4 + 3$
$(2x^7 - 3x^4 + 3)'$	$14x^6 - 12x^3$
	$20x^9 - 15x^4 + 3$
	$x^9 - x^4 + 3$

16. Алгоритм нахождения алгебраических дополнений

УСТАНОВИТЕ ПОСЛЕДОВАТЕЛЬНОСТЬ

1 найти сумму номеров строки и столбца

2 найти минор по алгоритму нахождения миноров

3 подставить значения в формулу  $A_{ij} = (-1)^{i+j} M_{ij}$

17. Установи соответствие между математическим объектом и его формой записи. УКАЖИТЕ СООТВЕТСТВИЕ ДЛЯ КАЖДОГО ЭЛЕМЕНТА ЗАДАНИЯ

производная логарифма $X$ по основанию $a$	$(\log_a x)' = \frac{1}{x \ln a}$
неопределенный интеграл	$\int f(x) dx = F(x) + C$ , где $C - const$
предел функции в точке	$\lim_{x \rightarrow a} f(x) = A$
вторая производная функции	$y''$
площадь криволинейной трапеции	$S = \int_a^b f(x) dx$
	$y^2$
	$\lg x$
	$\int_a^b f(x) dx = F(x) _a^b = F(b) - F(a)$

18. Для приготовления фарша взяли говядину и свинину в отношении 20:1. Процент свинины в фарше равен

ОТВЕТ ЗАПИСАТЬ В ВИДЕ НАТУРАЛЬНОГО ЧИСЛА

19. Площадь земель фермерского хозяйства, отведенная под посадку сельскохозяйственных культур, составляет 72 га и распределена между зерновыми и зернобобовыми культурами в отношении 7:2. Зернобобовые культуры занимают гектаров  
ОТВЕТ ЗАПИСАТЬ В ВИДЕ НАТУРАЛЬНОГО ЧИСЛА

	<p>20. Тело движется по прямой так, что расстояние <math>S</math> от начальной точки изменяется по закону: <math>S = 2t + t^2</math> (м), где <math>t</math> – время движения в секундах. Скорость тела через 2 с после начала движения равна ОТВЕТ ЗАПИСАТЬ В ВИДЕ НАТУРАЛЬНОГО ЧИСЛА</p> <p>21. Определенный интеграл <math>\int_1^2 4x^3 dx</math> равен ОТВЕТ ЗАПИСАТЬ В ВИДЕ НАТУРАЛЬНОГО ЧИСЛА</p> <p>22. Найдите производную функции <math>y = x^2 + 2</math> в точке <math>x_0 = 7</math> ОТВЕТ ЗАПИСАТЬ В ВИДЕ НАТУРАЛЬНОГО ЧИСЛА</p> <p>23. Вычислите определитель матрицы <math>A = \begin{pmatrix} 6 &amp; 2 \\ -1 &amp; 2 \end{pmatrix}</math> ОТВЕТ ЗАПИСАТЬ В ВИДЕ НАТУРАЛЬНОГО ЧИСЛА</p>
<p>ОК 2 Использовать современные средства поиска, анализа и интерпретации и информации, и информацион ные технологии для выполнения задач профессионал ьной деятельности</p>	<p>1. Значение производной функции <math>y = 2e^{2x} + \sin 2x</math> в точке <math>x_0 = 0</math> равно 4 2 6 0</p> <p>2. Значение производной функции <math>y = 2/x + x^3</math> в точке <math>x_0 = 2</math> равно 12,5 11,5 4,5 3,5</p> <p>3. Значение производной функции <math>y = \ln(2+x)</math> в точке <math>x_0 = -1</math> равно 1 -1 Не существует 0</p> <p>4. Алгебраическое дополнение <math>A_{31}</math> матрицы <math>A = \begin{pmatrix} -2 &amp; 0 &amp; 1 \\ 8 &amp; -5 &amp; 4 \\ 1 &amp; 1 &amp; -1 \end{pmatrix}</math> равно -5 13 3 5</p> <p>5. Даны матрицы <math>A = \begin{pmatrix} 3 &amp; 0 &amp; 8 \\ -2 &amp; 1 &amp; 2 \end{pmatrix}</math> и <math>B = \begin{pmatrix} -1 &amp; 2 &amp; 0 \\ 4 &amp; 1 &amp; -1 \end{pmatrix}</math>. Разность <math>4A - B</math> равна <math>\begin{pmatrix} 11 &amp; -2 &amp; 32 \\ -12 &amp; 3 &amp; 7 \end{pmatrix}</math> <math>\begin{pmatrix} 4 &amp; -2 &amp; 8 \\ -6 &amp; 0 &amp; 3 \end{pmatrix}</math> <math>\begin{pmatrix} 13 &amp; -2 &amp; -32 \\ -4 &amp; 3 &amp; 9 \end{pmatrix}</math> <math>\begin{pmatrix} 13 &amp; -2 &amp; 32 \\ -12 &amp; 3 &amp; 9 \end{pmatrix}</math></p>

6. Матрица  $A_{3 \times 3} = \begin{pmatrix} 2 & 0 & -1 \\ 5 & 7 & 2 \\ -2 & 1 & 0 \end{pmatrix}$ , а матрица  $B_{2 \times 3} = \begin{pmatrix} 2 & 1 & 7 \\ -4 & 0 & 1 \end{pmatrix}$ , то размерности матрица C

=  $A \cdot B^T$  будет

$C_{3 \times 3}$

$C_{3 \times 2}$

$C_{2 \times 3}$

$C_{2 \times 2}$

7. Предел  $\lim_{x \rightarrow 1} (3x^2 + x + 5)$  равен

8

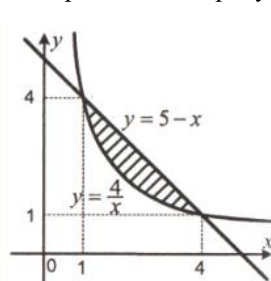
9

12

-1

данная операция не выполнима, размерность определить нельзя

8. Укажите формулу, по которой можно найти площадь S заштрихованной фигуры, изображенной на рисунке



a)  $S = \int_1^4 \left( \frac{4}{x} + 5 - x \right) dx$

б)  $S = \int_1^4 \left( \frac{4}{x} - 5 - x \right) dx$

в)  $S = \int_1^4 \left( 5 - x - \frac{4}{x} \right) dx$

г)  $S = \int_1^4 \left( \frac{4}{x} - 5 + x \right) dx$

9. Каждому виду матриц укажите в соответствие один или несколько элементов второго столбца (характеристики). УКАЖИТЕ СООТВЕТСТВИЕ ДЛЯ КАЖДОГО ЭЛЕМЕНТА ЗАДАНИЯ

Виды матриц	Характеристики
квадратная	число строк матрицы совпадает с числом столбцов
диагональная	на главной диагонали стоят некоторые числа, а остальные элементы - нули
единичная	квадратная матрица, у которой на главной диагонали стоят единицы, а остальные элементы - нули
транспонированная	матрица, полученная из исходной матрицы заменой строк на столбцы
	квадратная матрица, у которой все элементы - единицы

10. Методы решения систем линейных уравнений.

УКАЖИТЕ СООТВЕТСТВИЕ ДЛЯ КАЖДОГО ЭЛЕМЕНТА ЗАДАНИЯ

Методы	Характеристики
метод Гаусса	метод последовательного исключения неизвестных, приведение матрицы системы к ступенчатому виду
матричный метод	метод решения через обратную матрицу
	матрицу необходимо умножить на столбец свободных членов

11. Установите соответствие между матрицей и ее размерностью (размером). УКАЖИТЕ СООТВЕТСТВИЕ ДЛЯ КАЖДОГО ЭЛЕМЕНТА ЗАДАНИЯ



$$\begin{pmatrix} -2 & 4 & 0 \\ 1 & 3 & -5 \\ 2 & 6 & -1 \end{pmatrix}$$

3x3

$$\begin{pmatrix} 6 & 2 \\ -1 & 2 \end{pmatrix}$$

2x2

$$\begin{pmatrix} 0 & -5 & -7 \\ 2 & -3 & 1 \end{pmatrix}$$

2x3

3x2

12. Установите соответствие между производной и ее ответом. УКАЖИТЕ СООТВЕТСТВИЕ ДЛЯ КАЖДОГО ЭЛЕМЕНТА ЗАДАНИЯ

$y = \frac{1}{3}x^6$	$2x^5$
$y = 4x^3$	$12x^2$
$y = 6x - 11$	6
$y = 6x^3$	$18x^2$
	6x

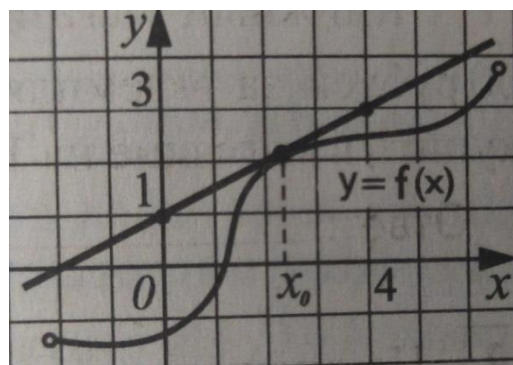
13. Установите соответствие между производной и ее ответом. УКАЖИТЕ СООТВЕТСТВИЕ ДЛЯ КАЖДОГО ЭЛЕМЕНТА ЗАДАНИЯ

$((x-1)^5)'$	$5(x-1)^4$
$((2x-1)^5)'$	$10(2x-1)^4$
$((2x-1)^4)'$	$8(2x-1)^3$
	$(x-1)^4$
	$(2x-1)^4$

14. Каждому термину укажите в соответствие его значение. УКАЖИТЕ СООТВЕТСТВИЕ ДЛЯ КАЖДОГО ЭЛЕМЕНТА ЗАДАНИЯ

Термин	Значение
минор определителя	определитель, полученный из данной матрицы вычеркиванием строки и столбца
алгебраическое дополнение	минор элемента со своим знаком, если сумма номеров строки и столбца данного элемента четна, и с обратным знаком, если - нечетна
транспонированная матрица	матрица, полученная из исходной матрицы заменой строк на столбцы

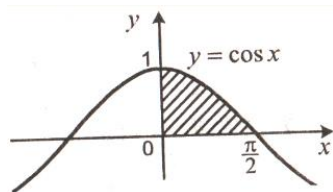
15. Вычислите площадь фигуры, ограниченной линиями  $y = x^2, y = 0, x = -3$ . ОТВЕТ ЗАПИСАТЬ В ВИДЕ НАТУРАЛЬНОГО ЧИСЛА



16. На рисунке изображены график  $y = f(x)$  и

	<p>касательная к этому графику, проведённая в точке с абсциссой <math>x_0</math>. Найдите значение производной функции <math>f(x)</math> в точке <math>x_0</math>. ОТВЕТ ЗАПИСАТЬ В ВИДЕ ДЕСЯТИЧНОЙ ДРОБИ.</p> <p>17. Для 3 лошадей на 60 дней запасли 900 кг сена. Для 5 лошадей на 120 дней необходимо, чтобы запас сена составлял ОТВЕТ ЗАПИСАТЬ В ВИДЕ НАТУРАЛЬНОГО ЧИСЛА</p> <p>18. Площадь земель фермерского хозяйства, отведённая под посадку сельскохозяйственных культур, составляет 24 га и распределена между зерновыми и овощными культурами в отношении 5:3. Овощные культуры занимают гектаров. ОТВЕТ ЗАПИСАТЬ В ВИДЕ НАТУРАЛЬНОГО ЧИСЛА.</p> <p>19. Прямоугольник разбит на четыре меньших прямоугольника двумя параллельными разрезами. Площади трёх из них, начиная с левого нижнего и далее по часовой стрелке, равны 14, 7 и 21(см. рисунок). Найдите площадь всего</p> <table border="1" data-bbox="427 705 880 913"> <tr> <td>7</td> <td>21</td> </tr> <tr> <td>14</td> <td></td> </tr> </table> <p>исходного прямоугольника. ОТВЕТ ЗАПИСАТЬ В ВИДЕ НАТУРАЛЬНОГО ЧИСЛА.</p>	7	21	14	
7	21				
14					
<p>ПК 1.1 Контроль санитарного и зоогигиенического состояния объектов животноводства и кормов</p>	<p>1. Площадь земель фермерского хозяйства, отведённая под посадку сельскохозяйственных культур, составляет 72 га и распределена между зерновыми и зернобобовыми культурами в отношении 7:2. Зернобобовые культуры занимают гектаров 16 72 8 56</p> <p>2. При проверке семян из 200 посеянных семян взошло 160. Тогда процент всходов семян равен 80 125 0,8 8</p> <p>3. В хозяйстве из 150 кроликов, 45 относятся к породе шиншилла. Вероятность того, что случайно выбранный кролик НЕ относится к породе шиншилла равна 0,3 0,7 0,45 0,6</p> <p>4. В ветеринарной лаборатории проводятся анализы на лямблиоз. Вероятность отрицательного результата равна 0,87. Какова вероятность того, что результат окажется положительным? 0,15 0,13 1,87 0,03</p>				

5. Найдите площадь заштрихованной фигуры, изображенной на рисунке.



- а) 1
- б) 2
- в)  $\frac{1}{2^2}$
- г)  $1\frac{1}{2}$

6. Если от подгольного конуса до цифры «1» находится 10 делений, то цена деления шприца составляет

- 0,1 мл
- 0,5 мл
- 1 мл
- 5 мл

7. Задачи на приготовление раствора обычно решаются способом нахождения экстремума функции

- перебора данных
- округлением чисел
- составлением пропорций

8. Во флаконе ампициллина находится 0,5 сухого лекарственного средства. Чтобы в 0,5 мл раствора было 0,1 г сухого вещества, растворителя нужно взять

- 3,5 мл
- 2 мл
- 2,5 мл
- 5 мл

9. Установи соответствие между производной и ее ответом.

УКАЖИТЕ СООТВЕТСТВИЕ ДЛЯ КАЖДОГО ЭЛЕМЕНТА ЗАДАНИЯ

$y = \sin x + 3$	$y' = \cos x$
$y = 4\cos x$	$y' = -4 \sin x$
$y = \cos x + 3$	$y' = \sin x$

10. Установи соответствие между математическим объектом и его формой записи.

УКАЖИТЕ СООТВЕТСТВИЕ ДЛЯ КАЖДОГО ЭЛЕМЕНТА ЗАДАНИЯ

формула Ньютона – Лейбница	$\int_a^b f(x)dx = F(x) _a^b = F(b) - F(a)$
первый замечательный предел	$\lim_{x \rightarrow 0} \frac{\sin x}{x} = 1$
угловой коэффициент касательной к графику функции	$k = f'(x) = \operatorname{tg} \alpha$
	$y''$
	$\lim_{x \rightarrow -1} \frac{2x^3 + 2}{x^2 - 1}$
	$\int f(x)dx = F(x) + C, \text{ где } C = \text{const}$

11. Установите соответствие между производной и ее ответом.

УКАЖИТЕ СООТВЕТСТВИЕ ДЛЯ КАЖДОГО ЭЛЕМЕНТА ЗАДАНИЯ

$y = \frac{1}{3}x^6$	$2x^5$
$y = 4x^3$	$12x^2$
$y = 6x - 11$	6
$y = 6x^3$	$18x^2$

12. Установите соответствие между алгебраическими дополнениями и их значениями.

УКАЖИТЕ СООТВЕТСТВИЕ ДЛЯ КАЖДОГО ЭЛЕМЕНТА ЗАДАНИЯ

$$A = \begin{pmatrix} 6 & 2 \\ -1 & 2 \end{pmatrix}$$

$A_{11}$	2
$A_{12}$	1
$A_{21}$	-2
$A_{22}$	6

13. Расположите числа и значения выражений в порядке возрастания

УСТАНОВИТЕ ПРАВИЛЬНУЮ ПОСЛЕДОВАТЕЛЬНОСТЬ

- $i^2$
- 0
- $-i^2$
- 2

14. Из 30 доильных аппаратов 3 неисправных. Вероятность того, что случайно выбранный доильный аппарат исправен равна

ОТВЕТ ЗАПИСАТЬ В ВИДЕ ДЕЯТИЧНОЙ ДРОБИ

15. На двух фермах  $A$  и  $B$ , насчитывающих по 1000 голов крупного рогатого скота, произошла вспышка заболевания ящуром. Доли зараженного скота составляют соответственно  $1/5$  и  $1/4$ . Какова вероятность того, что выбранная случайным образом корова принадлежит ферме  $A$  и болеет?

ОТВЕТ ЗАПИСАТЬ В ВИДЕ ДЕЯТИЧНОЙ ДРОБИ

16. На прицефабрике в данный момент свободно 20 машин: 9 черных, 4 желтых и 7 зеленых. По вызову выехала одна из машин. Найдите вероятность того, что выехала желтая машина.

ОТВЕТ ЗАПИСАТЬ В ВИДЕ ДЕЯТИЧНОЙ ДРОБИ

17. В среднем из каждых 80 поступивших в продажу аккумуляторов 76 аккумуляторов заряжены. Найдите вероятность того, что купленный аккумулятор не заряжен.

ОТВЕТ ЗАПИСАТЬ В ВИДЕ ДЕЯТИЧНОЙ ДРОБИ

18. Для телят подготовили бирки с номерами от 1 до 50. Какова вероятность того, что наугад взятый теленок будет иметь однозначный номер?

ОТВЕТ ЗАПИСАТЬ В ВИДЕ ДЕЯТИЧНОЙ ДРОБИ

#### **4.2. Оценочные средства, применяемые для промежуточной аттестации по итогам изучения дисциплины ЕН.01 Математические методы решения прикладных задач.**

Дифференцированный зачет проводится по завершении изучения дисциплины на последнем аудиторном занятии.

Промежуточная аттестация по дисциплине в форме дифференцированного зачета осуществляется по результатам текущего контроля успеваемости при выполнении всех видов текущего контроля, предусмотренных рабочей программой дисциплины.


Обучающиеся, не выполнившие виды работ, предусмотренные рабочей программой дисциплины; пропустившие более 50% аудиторных занятий без уважительной причины, не допускаются к зачету.

Промежуточная аттестация таких лиц проводится только после прохождения ими всех видов текущего контроля

## V. ПОКАЗАТЕЛИ ОЦЕНКИ РЕЗУЛЬТАТОВ ОСВОЕНИЯ ДИСЦИПЛИНЫ

Уровень сформированности компетенций	Оценка	Критерии оценивания по видам работ	
		тестирование (процент правильных ответов)	прочие виды работ по дисциплине
Высокий	Отлично	90-100%	Обучающийся глубоко и прочно усвоил теоретический и освоил практический материал. Дает логичные и грамотные ответы. Демонстрирует знание не только основного, но и дополнительного материала, быстро ориентируется, отвечая на дополнительные вопросы. Свободно справляется с поставленными задачами, аргументировано и верно обосновывает принятые решения.
Повышенный	Хорошо	70-89%	Обучающийся твердо знает программный материал, грамотно и по существу излагает его. Не допускает существенных неточностей при ответах на вопросы, правильно применяет теоретические положения при решении практических задач, владеет навыками и приемами их выполнения.
Базовый	Удовлетворительно	50-69%	Обучающийся демонстрирует знания только основного материала, но не усвоил его детали, испытывает затруднения при решении практических задач. В ответах на поставленные вопросы допускает неточности. Дает определения понятий, искажающие их смысл. Нарушает последовательность изложения программного материала.
Не сформирована	Неудовлетворительно	0-49%	Обучающийся не знает, не выполняет или неправильно выполняет большую часть учебного материала. Допускает ошибки в формулировке определений, искажающие их смысл, беспорядочно и неуверенно излагает материал. Ответы на дополнительные вопросы отсутствуют. Не выполняет задания.

**ЛИСТ РАССМОТРЕНИЙ И ОДОБРЕНИЙ**  
**рабочей программы дисциплины**  
**ЕН.01 Математические методы решения прикладных задач**  
**36.02.01 Ветеринария**

<b>1) Рассмотрена и одобрена:</b>
а) На заседании предметно-цикловой методической комиссии протокол № 7 от 20.05.2024 г.  Председатель ПЦМК  Е.М. Казначеева
б) На заседании методического совета протокол № 5 от 23.05.2024 г.  Председатель методического совета  М.В. Иваницкая
<b>2) Рассмотрена и одобрена внешним экспертом</b>
а) Акционерное общество «Омский бекон», директор Букулит Николай Николаевич

**ИЗМЕНЕНИЯ И ДОПОЛНЕНИЯ**  
**к рабочей программе дисциплины**  
**ЕН.01 Математические методы решения прикладных задач**  
**в составе ООП 36.02.01 Ветеринария**

**Ведомость изменений**

Срок, с которого вводится изменение	Номер и основное содержание изменения и/или дополнения	Отметка об утверждении/ согласовании изменений	
		инициатор изменения	руководитель ООП или председатель ПЦМК/ МК